

Кинематика. Графические задачи

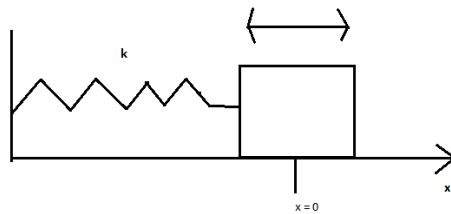
В основном в школе имеют дело с равноускоренным движением. Возьмем произвольную координату S . При равноускоренном движении она меняется как

$$S = \frac{at^2}{2} + v_0t + S_0$$

Эта координата произвольная. Она может быть и не прямолинейная, главное чтоб координата менялась заданным образом.

Определение. *Кинематика — это раздел физики, который изучает движение без обоснование его причин.*

Движение не всегда бывает равноускоренным. например движение грузика на пружинке.



Координата будет меняться по закону.

$$x = x_m \cos(\omega t + \varphi_0)$$

где $\omega = \sqrt{\frac{k}{m}}$ — круговая частота, $T = \frac{2\pi}{\omega}$ — период, а φ_0 — начальная фаза.

Большинство задач не требует умения дифференцирования и интегрирования в ЕГЭ, поэтому старайтесь решить задачу простыми способами.

$$v = \dot{x} = \frac{dx}{dt} = -x_m \omega \sin(\omega t + \varphi_0) \quad a = \ddot{x} = -x_m \omega^2 \cos(\omega t + \varphi_0)$$

Ускорение у нас не константа и зависит от времени. Надо быть готовым к тому, что движение не всегда равноускоренно.

Задача 1

Два камня одновременно бросили из одной точки. Один вертикально вверх, а другой под углом 30° . Как движется второй камень в системе отсчета связанной с первым камнем?

Решение.

Оба камня движутся с ускорением \vec{g} . Так как система связанная с первым камнем движется с ускорением, то она по определению неинерциальная система отсчета. Запишем второй закон Ньютона для первого камня.

$$m\vec{a} = \vec{F} + \sum_i \vec{F}_i$$

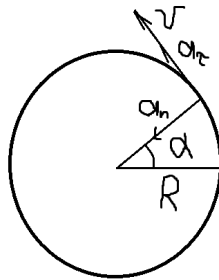
где \vec{F}_i — сила инерции. В нашем случае сила инерции поступательная $\vec{F}_i = m\vec{g}$. Для второго камня закон Ньютона

$$m\vec{a} = \vec{F}_{\text{тяжести}} - \vec{F}_{\text{инерции}} = m\vec{g} - m\vec{g} = 0$$

. Из этого следует, что $\vec{a} = 0$. Вспоминая законы Ньютона мы понимаем, что правильный ответ — движется прямолинейно и равномерно.

Задача 2

Движение по окружности. Удобно описывать движение по окружности изменением угловых величин. Рассмотрим ускоренное изменение угла. Можно ввести угловое ускорение ϵ и тогда соответствующие формулы имеют вид $\omega = \epsilon t + \omega_0$, $\alpha = \frac{\epsilon t^2}{2} + \omega_0 t + \alpha_0$.



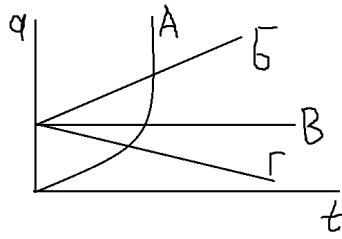
Ускорение можно представить как сумму тангенциального и нормального. Тогда полное ускорение тела

$$a = \sqrt{a_\tau^2 + a_n^2}$$

где $a_\tau = \epsilon R$, $a_n = \frac{v^2}{R} = \omega^2 R$. Период $T = \frac{2\pi R}{v} = \frac{2\pi}{\omega} = \frac{1}{\nu}$

Задача 3

На приведенном графике выберите случай соответствующий равноускоренному движению?



Ускорение должно не зависеть от времени поэтому ответ В.

Задача 4

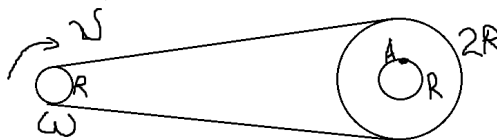
Систему отсчета связанную с Землей будем считать инерциальной. Система отсчета связанная с автомобилем тоже будет инерциальной если автомобиль:

- а) движется равномерно по прямолинейному участку шоссе.
- б) разгоняется по прямолинейному участку шоссе.
- в) движется равномерно по извилистой дороге.
- г) по инерции вкатывается в гору.

Правильный ответ – а. Поскольку тело движущееся по окружности с постоянной скоростью имеет нормальное ускорение. Значит даже при движении с постоянной скоростью по окружности тело обладает нормальным ускорением.

Задача 5

Два вращающихся вала соединены ремнем, который не проскальзывает относительно валов. Радиус первого вала R , второго $2R$. Угловая скорость вращения первого вала равна ω . Модуль скорости точки А равен. **Решение.**



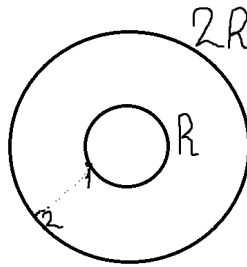
Скорость точки ремня $v = \omega R$. Так как ремень не растяжим, то скорость всех его точек

будет одинакова. Значит $\omega'2R = v$ и

$$v_A = \omega'R = \frac{v}{2} = \frac{\omega R}{2}$$

Задача 6

Два велосипедиста совершают кольцевую гонку с одинаковой угловой скоростью. Цему равно отношение центростремительных ускорений велосипедистов?

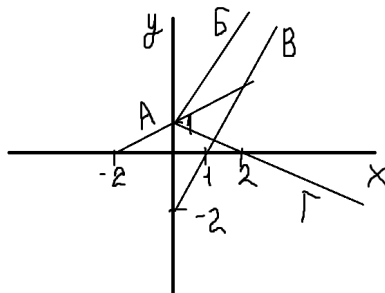


Решение.

$$a_{n_1} = \frac{v_1^2}{R_1} = \frac{\omega^2 R_1^2}{R_1} = \omega^2 R_1, \quad a_{n_2} = \omega^2 R_2$$

$$\frac{a_{n_2}}{a_{n_1}} = \frac{2R}{R} = 2$$

Задача 7

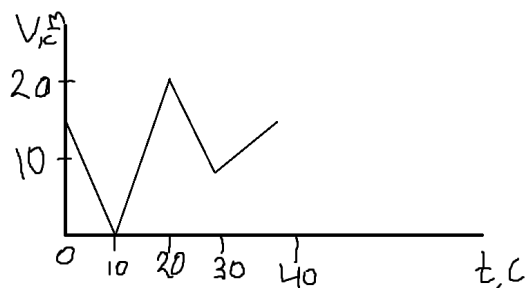


По плоскости движется 4 тела, траектории которых изображены на рисунке. Зависимость координат одного из этих тел имеют вид $x = 1 + t$ и $y = 2t$.

Решение.

$t = x - 1, y = 2t = 2x - 2$. Ясно что только прямая В подходит под это уравнение.

Задача 8

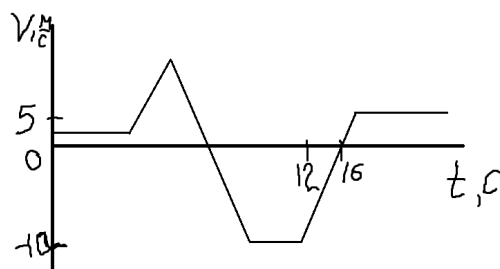


Автомобиль движется по прямой улице. На графике представлена зависимость скорости автомобиля от времени. Модуль ускорения максимален на интервале времени:

Решение.

Если мы рисуем график $v(t) = at + v_0$, то a — коэффициент наклона. Значит надо посмотреть, где скорость меняется быстрее всего за равные промежутки времени. Очевидно, что больше всего на 10-20 с. Скорость меняется больше всего.

Задача 9

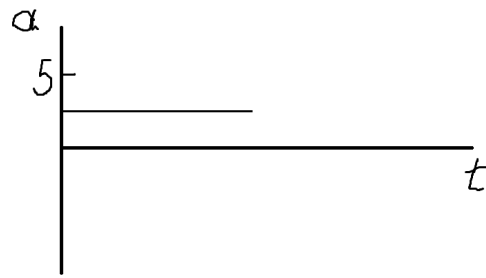


На рисунке представлен график зависимости проекции скорости тела от времени. График зависимости проекции ускорения тела от времени на интервале от 12 до 16 с?

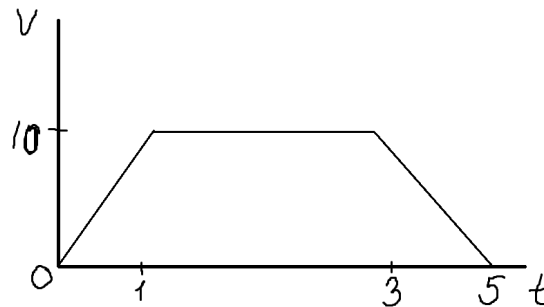
Решение.

Вспоминая, что

$$a = \frac{\Delta v}{\Delta t} = \frac{v_{\text{конечное}} - v_{\text{начальное}}}{\Delta t} = \frac{0 - (-10)}{4} = 2,5 \frac{\text{м}}{\text{с}^2}$$



Задача 10



На рисунке представлен график зависимости скорости автомобиля от времени. Найдите путь пройденный автомобилем за 5 секунд.

Решение.

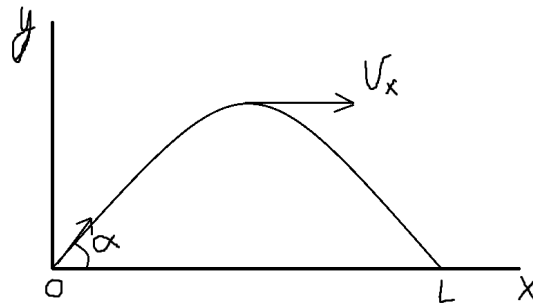
При равноускоренном движении $x = \frac{at^2}{2} + v_0t + x_0$. Перемещение тела $x - x_0 = \frac{at^2}{2} + v_0t$. В данном случае, поскольку тело двигалось в одном направлении то перемещение совпадает с путем. Тогда из уравнения $v = \dot{x}$ получаем, что $x = \int v dt + C$. В ЕГЭ пользоваться интегралами не нужно, но для понимания это полезно. Тогда получаем, что путь равен площади фигуры под графиком. Остается только посчитать площадь этой трапеции.

$$S = \frac{10 \cdot 1}{2} + 10(3 - 1) + \frac{10 \cdot (5 - 3)}{2} = 35\text{м}$$

Задача 11

Небольшой камень брошенный под углом к горизонту, упал на Землю через 2 секунды на расстоянии 20 метров от места броска. Чему равна минимальная скорость камня за время полета?

Решение.



Длина полета

$$L = \frac{v_0^2 \sin 2\alpha}{g} = \frac{2v_0 \sin \alpha \cdot v_0 \cos \alpha}{g}$$

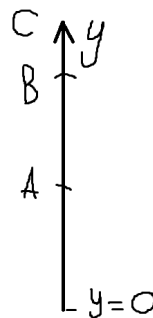
Минимальная скорость полета складывается из двух составляющих $v = \sqrt{v_x^2 + v_y^2}$. В верхней точке полета скорость будет как раз минимальна, так как будет только $v_x = v_0 \cos \alpha$.
Время полета :

$$y = v_0 \sin \alpha t - \frac{gt^2}{2} \rightarrow 0 = v_0 \sin \alpha t - \frac{gt^2}{2} \rightarrow t_{\text{полета}} = \frac{2v_0 \sin \alpha}{g}$$

Получаем, что время полета умноженное на минимальную скорость даст длину полета $L = t_{\text{полета}} v_{\text{min}}$, значит

$$v_{\text{min}} = \frac{L}{t_{\text{полета}}} = 10 \frac{\text{м}}{\text{с}}$$

Задача 12



Если тело брошено вертикально вверх, то оно движется по закону $y = v_0 t - \frac{gt^2}{2}$. Момента времени когда тело было в точке В будет два, когда тело поднималось и когда оно падало. Здесь важно понимать разницу между перемещением и путем. Когда тело окажется в точке В, то перемещение между точками А и В будет $s = y_B - y_A = AB$, а вот путь будет другой $S = AC + CB = (y_C - y_A) + (y_C - y_B)$

Задача 13

Четыре тела двигались по оси Ox . В таблице представлены зависимости их координат от времени. У какого из тел скорость могла быть постоянна и отлична от 0?

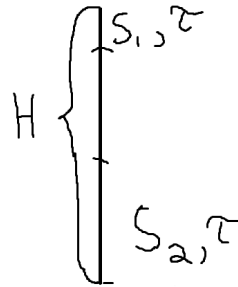
Решение.

Координаты меняются хаотическим образом. А для некоторых тел координата линейно возрастает. Надо просто построить график и посмотреть. Это полная альтернатива задачам с графиками.

Задача 14

Тело свободно падает и за время $\tau = 1$ с проходит путь в $n = 5$ раз меньший, чем за такой же промежуток времени в конце движения. Найдите полное время движения T .

Решение.



По условию $\frac{S_2}{S_1} = n = 5$. $S_1 = \frac{g\tau^2}{2}$ и $H = \frac{gT^2}{2}$ из хорошо известной формулы. $H - S_2 = \frac{g(T-\tau)^2}{2}$. Это все формулы которые нам понадобятся. Тогда

$$S_2 = \frac{gT^2}{2} - \frac{g(T-\tau)^2}{2} = \frac{gT^2}{2} - \frac{g(T^2 + \tau^2 - 2T\tau)}{2} = g\tau \left(T - \frac{\tau}{2} \right)$$

$$\frac{S_2}{S_1} = \frac{2g\tau \left(T - \frac{\tau}{2} \right)}{g\tau^2} = n$$

Отсюда $T = n\frac{\tau}{2} + \frac{\tau}{2} = 3$ с.